

④ 海外旅行実務

第1問 下記の適用条件及び航空券サンプル(パッセンジャーレシート)に基づき、別冊資料編・資料1. ~2. を参照のうえ、問1. ~問3. の各設問について該当するものを、それぞれの選択肢から一つ選びなさい。(配点 5点×3)

適用条件

1. 旅程：

					発 着
TOKYO(TYO)	— SINGAPORE(SIN)	JL719	21OCT06(土)	1115	1715
SINGAPORE(SIN)	— PENANG(PEN)	SQ196	22OCT06(日)	1540	1705
PENANG(PEN)	— BANGKOK(BKK)		地上移動		
BANGKOK(BKK)	— TAIPEI(TPE)	CI694	25OCT06(水)	1330	1810
TAIPEI(TPE)	— MANILA(MNL)	CI635	28OCT06(土)	1350	1550
MANILA(MNL)	— TOKYO(TYO)	JL742	30OCT06(月)	1445	1945

2. クラス・人員：エコノミークラス大人1名（予約コードは適用運賃に合致するものとする。）

3. 適用運賃：東南アジア行個人IT運賃

4. 各区間のTPM：

TYO - 3311(EH) - SIN - 374 - PEN - 596 - BKK - 1555 - TPE - 731 - MNL - 1879(EH) - TYO

5. 運賃計算上の折り返し地点と旅行形態：

往路の終点をPENとし、復路の始点をBKKとするオープンジョー

6. タリフ：別冊資料編参照

7. IATA ROE：1NUC=JPY100.000000

8. 予約完了日：2006年9月30日

9. 航空券の予約、販売と発券：日本

《参考》 各区間のTPMの合計

区 間	TPMの合計
TYO → SIN → PEN	3 6 8 5
TYO → SIN → PEN → BKK	4 2 8 1
TYO → SIN → PEN → BKK → TPE	5 8 3 6
TYO → SIN → PEN → BKK → TPE → MNL	6 5 6 7
SIN → PEN → BKK → TPE → MNL → TYO	5 1 3 5
PEN → BKK → TPE → MNL → TYO	4 7 6 1
BKK → TPE → MNL → TYO	4 1 6 5
TPE → MNL → TYO	2 6 1 0

各区間のMPM

区 間	MPM(EH)
TYO — SIN	3 9 7 3
TYO — PEN	3 9 4 3
TYO — BKK	3 4 4 1
TYO — TPE	1 5 9 6
TYO — MNL	2 2 5 4

航空券サンプル (パッセンジャーレシート)

OPATB2
 PASSENGER TICKET AND BAGGAGE CHECK
 SUBJECT TO CONDITIONS CONTRACT

ISSUED BY JAPAN AIRLINES INTL
 ISS. AGY. PLACE OF ISSUE JATA TRAVEL SERVICE/TOKYO
 NAME OF PASSENGER (NOT TRANSFERABLE) YAMADA/TAROMR

IATA-BSP 30SEP06
 DATE OF ISSUE

CARRIER ID. 1315/AA
 ISS. AGY. /AAA
 BOOK REF. I.D. /AAA

PASSENGER RECEIPT 1 OF 1
 ISO JP

ISS. OFF. CODE 16300000
 F.I.

PNR CODE [REDACTED]

CONJ. TKT. NO. 66-67

FARE CALCULATION
 21OCT06 TYO JL X/SIN SQ PEN ☆☆☆☆☆☆ /-BKK CI TPE CI
 MNL JL TYO ① △☆☆☆☆☆☆ NUC ②
 END ROE100.000000

TAXI/FEE/CHARGE
 JPY2040SW
 JPY☆☆☆☆YQ
 JPY1090TW
 TOTAL JPY IT

FORM OF PAYMENT CASH

95472235341533 | 0 131 5705642266 0

BAGGAGE ID. NO. 131
 DOCUMENT NUMBER 5705642266
 CK 0

NOT VALID FOR TRAVEL

※券面上の☆と△は設問上伏せてある。

問 1. 復路のマイレージ計算の結果、航空券サンプルの FARE CALCULATION 欄の①に表示されるものはどれか。

- a. 20M642.00
- b. 25M668.75
- c. 20M708.00
- d. 25M737.50

問 2. 航空券サンプルの FARE CALCULATION 欄の②に表示される途中降機料金を含めたこの旅程の NUC 合計額はどれか。

- a. 1368.00
- b. 1372.00
- c. 1397.50
- d. 1398.75






問 3. 次の記述のうち、誤っているのはどれか。

- a. この旅程において適用される運賃で、予約完了日が 2006 年 9 月 30 日の場合、発券は 2006 年 10 月 14 日までに行わなければならない。
- b. この旅程において適用される運賃で、旅行開始後の 2006 年 10 月 26 日に旅客の都合により、TPE - MNL 間の CI635 便の出発日を 2006 年 10 月 28 日から 2006 年 10 月 27 日に変更することはできない。
- c. この旅程において適用される運賃で、有効期間を最大限に適用する場合の復路 MNL - TYO 間の旅行開始日は 2006 年 11 月 4 日である。
- d. この旅程に子供 (小児 5 歳) が同伴した場合、2006 年 9 月 30 日に発券された航空券の TYO - SIN 間と MNL - TYO 間の JAL 利用区間の燃油特別付加運賃は大人と同額の 10,400 円になる。

第2問 下記の適用条件及びE-チケットお客様控え(旅程)サンプルに基づき、別冊資料編・資料3.～6.を参照のうえ、問4.～問8.の各設問について該当するものを、それぞれの選択肢から一つ選びなさい。(配点 5点×5)

適用条件

1. 旅程：E-チケットお客様控え(旅程)サンプル

JATA TRAVEL SERVICE 0-00-0 KONAN MINATO-KU TOKYO		CLIENT: ENDO/ICHIROMR 0 JAPAN 03-0000-0000		PAGE:01
17 SEP SU	 ALL NIPPON FUKUOKA TOKYO/NARITA	FLIGHT: 2144 DEPART: 1200 ARRIVE: 1345	CLASS: ☆ OPERATED BY: AIR NIPPON	
18 SEP MO	 ALL NIPPON TOKYO/NARITA WASH/DULLES	FLIGHT: 2 DEPART: 1110 ARRIVE: 1045	CLASS: ☆ 	
SURFACE TRANSPORTATION				
PRINTED BY TOPPAN KOMINS CO., LTD. JAPAN				
		CLIENT: ENDO/ICHIROMR		PAGE:02
23 SEP SA	 ALL NIPPON LOS ANGELES TOKYO/NARITA	FLIGHT: 5 DEPART: 1255 ARRIVE: 1620	CLASS: ☆ 24SEP 	

※旅程上に表記されていないが、この旅程は2006年のものとする。

※旅程上の☆は設問上伏せてある。

※PAGE:02は紙面の都合上余白部分を削除している。

2. クラス・人員 : 各クラス・大人1名(予約コードは各適用運賃に合致するものとする。)
3. 適用運賃 : この旅程に適用する運賃は下記4種類とする。
 - ①普通運賃ビジネスクラス
 - ②エコ割28エコノミークラス
 - ③エコ割14エコノミークラス
 - ④エコ割スタンダードエコノミークラス
4. 各区間のTPM:FUK-566-TYO-6763(PA)-WAS-2294-LAX-5451(PA)-TYO
5. 運賃計算上の折り返し地点と旅行形態:
往路の始点をFUK、終点をWASとし、復路の始点をLAX、終点をTYOとするダブルオープンジョー
6. タリフ : 別冊資料編参照
7. 航空券の予約、販売と発券:日本
8. その他 : 運賃は本来NUC額にて算出するが、計算簡素化のため円貨額にて算出するものとする。

問 4. この全旅程に「普通運賃ビジネスクラス」を適用運賃とするときの運賃（円貨額）はどれか。

- a. 633,300 円 b. 650,600 円 c. 657,300 円 d. 681,300 円

問 5. この全旅程に「エコ割 28」を適用運賃とするときの運賃（円貨額）はどれか。

- a. 89,500 円 b. 100,000 円 c. 103,500 円 d. 108,500 円

問 6. この全旅程に「エコ割スタンダード」を適用運賃とするときの運賃（円貨額）はどれか。

- a. 243,500 円 b. 245,500 円 c. 251,000 円 d. 253,000 円

問 7. この旅程において、2006 年 9 月 1 日に航空券予約の依頼があり、その日に発券をした場合、適用できる運賃の中で最も安価となる運賃（円貨額）はどれか。

- a. 108,500 円 b. 134,500 円 c. 139,500 円 d. 253,000 円

問 8. 次の記述のうち、誤っているものはどれか。

- a. この旅程の往路 FUK - TYO - WAS 間の TPM の合計と比較する FUK - WAS 間の MPM は 8722 である。
- b. この旅程に子供（小児 5 歳）が同伴した場合の運賃は、「普通運賃ビジネスクラス」、「エコ割 28」、「エコ割 14」及び「エコ割スタンダード」とも大人運賃の 75% である。
- c. この旅程において「エコ割 28」を適用した航空券を購入後、旅客の都合により、2006 年 9 月 15 日に予約の取り消しを行い旅行を取りやめた場合、大人については 30,000 円の取消手数料を支払うことにより、残額の払い戻しを受けることができる。
- d. この旅程において「エコ割スタンダード」を適用した航空券を、旅行開始後の 2006 年 9 月 20 日に旅客の都合により、復路 LAX - TYO 間の出発日を 2006 年 9 月 23 日から 2006 年 9 月 22 日に変更する場合、15,000 円の変更手数料を支払わなければならない。

第3問 以下の問9. ～問16. の各設問について該当するものを、それぞれの選択肢から一つ選びなさい。
別冊資料編・資料7. ～9. を必要に応じて参照のこと。 (配点 5点×8)

問9. 次の都市コードと都市名の組み合わせのうち、誤っているものはどれか。

- a. CMB ————— コロンボ
- b. KUL ————— クウェート
- c. PRG ————— プラハ
- d. YVR ————— バンクーバー

問10. 次の航空会社コードと航空会社名の組み合わせのうち、誤っているものはどれか。

- a. CO ————— コンチネンタル航空
- b. TK ————— トルコ航空
- c. UA ————— ユナイテッド航空
- d. VS ————— ベトナム航空

問11. 東京が2006年10月1日正午の時、次の各都市の現地時間のうち、誤っているものはどれか。

- a. ヘルシンキ (HEL) ————— 2006年10月1日 午前6時
- b. リスボン (LIS) ————— 2006年10月1日 午前4時
- c. ロサンゼルス (LAX) ————— 2006年10月1日 午後8時
- d. クライストチャーチ (CHC) ————— 2006年10月1日 午後4時

問12. 2006年4月1日に成田空港のターミナル2を出発する直行便を利用して、フランクフルト空港のターミナル2に到着した場合の所要時間で正しいものはどれか。

- a. 11時間40分
- b. 12時間00分
- c. 12時間10分
- d. 13時間00分

- 問 13. トーマスクックタイムテーブルに関する次の記述のうち、正しいものはどれか。
- a. 9116 列車のロンドン出発駅はヴィクトリア駅である。
 - b. 9148 列車に乗車する場合、16 時 09 分までにチェックインしなければならない。
 - c. 9425 列車は、ブラッセル始発である。
 - d. 2006 年 4 月に 9124 列車を利用して、ロンドンからブラッセルまで行く場合の所要時間は 3 時間 22 分である。
- 問 14. トーマスクックタイムテーブルに関する次の記述のうち、誤っているものはどれか。
- a. 月曜日の最終のユーロスターは、19 時 47 分にロンドンを発車する。
 - b. 9106 列車は土曜日と日曜日は運行されない。
 - c. 9132 列車は毎日運行される。
 - d. 4618 列車は祭日を除く月～金曜日に運行される。
- 問 15. 次の記述のうち、誤っているものはどれか。
- a. ホテルのミールプランで、コンチネンタルプランとは、室料に朝食を含んだものである。
 - b. ホテルのミールプランで、ハーフペンションとは、室料と朝食に昼食又は夕食のいずれかを含んだものである。
 - c. リバークルーズで使われるナローボートとは、石炭を積んで運河を走った小型船を改造したホテルボートのことである。
 - d. コネクティングルームとは、2 層に分かれた室内部分を専用の階段を使って結んだ構造の客室のことである。
- 問 16. 次の記述のうち、正しいものはどれか。
- a. オーストラリアの査証申請では、コンピュータによる電子渡航許可制度（ETAS）が採用されている。
 - b. ユーロはすべての EU 加盟国で法定通貨として採用されている。
 - c. 日本人が米国に入国する際、税関申告書として提出するのは I - 94W である。
 - d. シェンゲン協定は、すべての EU 加盟国相互間で実施されており、「出入国手続きの簡素化」を目的として締結されている協定である。

第4問 以下の問17.～問20.の数次往復用一般旅券に関する各設問について該当するものを、それぞれの選択肢から一つ選びなさい。(配点 5点×4)

問17. 旅券の発給申請に当たり、申請者が人違いでないことを確認するために都道府県知事が提示又は提出を求める書類として、次の(ア)～(エ)から1点のみでよいとされているもののみをすべて選んでいるものはどれか。

- (ア) 写真をはり付けた会社の身分証明書
- (イ) 写真付き住民基本台帳カード
- (ウ) 写真をはり付けた学生証
- (エ) 旅行業務取扱管理者証(写真付き)

- a. (ア)(イ)(ウ) b. (ア)(エ) c. (イ) d. (イ)(エ)

問18. 次の(ア)～(ウ)の記述から、正しいもののみをすべて選んでいるものはどれか。

- (ア) 旅券の発給申請に当たり、申請者本人に代わり出頭する者は、「親族又は指定した者を通ずる申請書類等提出申出書」の提出が必要となるが、当該申請者の法定代理人が出頭する場合はその提出は不要である。
- (イ) 旅券の発給申請に当たり、申請者本人に代わり出頭する者は、当該申請の内容を知り、かつ、都道府県知事又は領事官の指示を本人に確実に伝達する能力を有していると認められる成人でなければならない。
- (ウ) 記載事項の訂正を申請した旅券の受領に当たり、当該申請者に代わり出頭する者は、当該申請者の配偶者又は2親等内の親族でなければならない。

- a. (ア) b. (ア)(ウ) c. (イ) d. (イ)(ウ)

問19. 次の記述のうち、正しいものはどれか。

- a. 旅券の発給申請に当たり、学生、単身赴任者等は居所(住民登録地以外の居住地)での申請が認められているが、申請時には、申請日前1年以上当該居所に居住していることを立証する書類を提示しなければならない。
- b. 14歳の時に交付を受けた旅券の残存有効期間が1年未満となった場合、名義人は当該旅券の有効期間内に旅券を返納の上、新たに有効期間が10年の旅券を申請することができる。
- c. 有効期間が満了となった旅券を返納の上、旅券の発給申請をする場合、当該申請者の氏名及び本籍の都道府県名に変更がなければ、戸籍謄本(抄本)の提出を省略することができる。
- d. 旅券の記載事項のうち、当該旅券の名義人の氏名、本籍の都道府県名に変更を生じた場合は、当該旅券を返納の上、新たに旅券の発給を申請するか、又は、当該旅券の記載事項の訂正を申請することができる。

問 20. 次の記述のうち、誤っているものはどれか。

- a. 国内において旅券を紛失した場合、当該旅券の名義人から都道府県知事を経由して外務大臣に紛失した旨届出があったとき、当該旅券は失効する。
- b. 旅券の名義人が外国に住所又は居所を定めて3か月以上滞在する場合、あらかじめ出入国管理局を通じて法務大臣に「在留届」を提出しなければならない。
- c. 2006年3月20日以前に発行された旅券については、残存有効期間にかかわらず当該旅券の名義人が希望すれば、当該旅券を返納の上、電磁的方法により記録された旅券（IC旅券）に切替の申請をすることができる。
- d. 新たに発給された旅券の受領に当たり、病気、身体の障害、交通至難の事情その他の真にやむを得ない理由により申請者の出頭が困難であると認められ、かつ、当該申請者が人違いでないことが明らかとなるとき、出頭することなく当該旅券の交付を受けようとする者は、当該申請者本人が出頭して受領する場合に必要なとされる書類に加え、「交付時出頭免除願書」を提出しなければならない。

第5問 以下の問21.～問24.の各設問について該当するものを、それぞれの選択肢から一つ選びなさい。
(配点 5点×4)

問 21. 日本に在留する外国人（仮上陸の許可を受けている者及び上陸の特例により上陸の許可を受けている者を除く。）の再入国の許可に関する次の記述のうち、正しいものはどれか。

- a. 再入国の許可の有効期間は、当該許可が効力を生ずるものとされた日から5年のものと10年のものがある。
- b. 日本への再入国の許可を受けずに出国した場合、日本国領事館に本人が出頭して再入国の許可を取得することができる。
- c. 日本への再入国の許可を受けた者が出国する場合、「再入国出国記録」カードを入国審査官に提出し出国の確認を受けなければならない。
- d. 再入国の許可の申請は、外国人登録申請と同様に当該申請者が居住している市区町村の長に対して行う。

問 22. 旅行者が日本入国時に携帯して輸入する次の（ア）～（エ）の物品から、動植物検疫が必要なもののみをすべて選んでいるものはどれか。

（ア） スウェーデン産「アンチョビーの瓶詰」

（イ） タイ産「ドリアンの生果実」

（ウ） 韓国産「高麗人参茶（顆粒）」

（エ） カナダ産「冷凍ロブスター」

- a. （ア）（ウ） b. （ア）（エ） c. （イ） d. （イ）（ウ）（エ）

問 23. 日本人旅行者が日本を出入国する際の手続きに関する次の記述のうち、誤っているものはどれか。

- a. 18歳の未成年者が紙巻たばこ 200本を携帯して入国をする場合、託送品又は家族への贈与品と認められるものに限り、税金を支払い持ち込むことができる。
- b. 外国から物品を別送し免税枠の適用を受けようとする場合、入国の際に「携帯品・別送品申告書」2通を税関に提出し申告しなければならない。
- c. 旅行者個人が使用するために持ち込むことができる化粧品は、標準サイズで1品目 24個以内に限られる。
- d. 出国に際し、現金などの支払手段を持ち出すとき、その合計額が100万円相当額を超える場合には税関へ届出が必要であるが、トラベラーズチェックについてはその額に含めなくてもよい。

問 24. 20歳以上の日本人旅行者が帰国時に携帯又は別送して輸入する物品の通関に関する次の記述のうち、誤っているものはどれか。

- a. 身回品等並びに旅客携帯品免税基準表に記載されているもの以外の物品（「その他の物品」）についての免税枠 20万円の計算をする場合、1品目毎の海外市価の合計額が1万円以下の物品は含めなくともよい。
- b. 日本に居住する者が空港の免税店や外国で購入した日本製紙巻たばこについては、外国製紙巻たばこは別に 200本までは免税で持ち込める。
- c. 海外市価 1本（750ml）10万円のワイン 3本のみを持ち込む場合、1本分の 10万円について課税される。
- d. 海外市価が 8万円のゴルフクラブ 1本、12万円のハンドバッグ 1個、6万円の財布 1個の計 3点のみを持ち込む場合、ゴルフクラブに課税される。

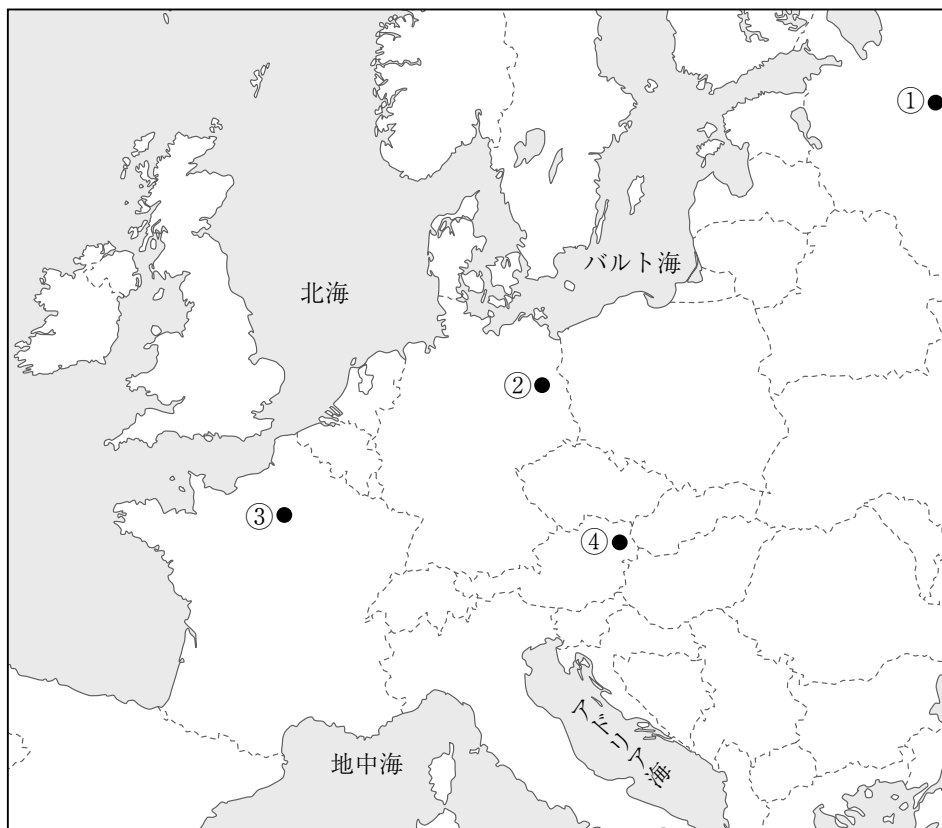
第6問 以下の問25.～問44.の各設問について該当するものを、それぞれの選択肢から一つ選びなさい。
 (地名表記については、原則として「コンサイス外国地名事典第3版」による。) (配点 2点×20)

問25. パリを中心に広がる は、フランスの地方行政区の一つで、豊かな田園と深い森に
 囲まれ、古城や宮殿など多数の歴史的文化施設があり、ゴッホやミレーなど巨匠ゆかりの地で
 もある。

- a. イルドフランス b. オーベルニュ c. ブルゴーニュ d. プロヴァンス

問26. 次の選択肢 a.～d.のうち、その組み合わせがすべて正しいものはどれか。

	白地図の位置	宮殿	ヨーロッパの王家	王(女王)
a.	①	エカテリーナ宮殿	ロマノフ家	カール大帝
b.	②	シェーンブルン宮殿	ハプスブルク家	マリアテレジア
c.	③	ベルサイユ宮殿	ブルボン家	ルイ14世
d.	④	サンサーシー宮殿	ウィンザー家	フリードリヒ大王



問 27. 伊万里焼の影響も受けたといわれる白地に独特の青の絵付けが美しい陶器の産地、オランダの [] は、「青いターバンの女（真珠の耳飾の少女）」で有名な画家フェルメールの生まれた都市でもある。

- a. セーブル b. デルフト c. ヘレンド d. マイセン

問 28. 宗教指導者を元首とする世界最小の独立国家である [] は、キリスト教美術の宝庫であり、同国には信徒ばかりでなく世界中の観光客が訪れる。

- a. アンドラ公国 b. バチカン市国
c. モナコ公国 d. リヒテンシュタイン公国

問 29. 11 世紀に、当初は要塞としてテムズ川岸に建設され後に監獄として使用された [] は、夏目漱石の作品でも紹介されているが、現在は公開され世界最大級のダイヤモンド「偉大なアフリカの星」が展示されている。

- a. ケンジントン宮殿 b. 大英博物館 c. タワーブリッジ d. ロンドン塔

問 30. 近年、アラブ首長国連邦の代表的な観光地となった [] は、ジュメイラビーチの観光だけでなく、フリーポートならではのショッピングも楽しめる一大リゾート地として注目されている。

- a. クウェート b. ドーハ c. ドバイ d. マスカット

問 31. ニューヨークの [] は、自動車部品をモチーフとした次第にせばまる金属製アーチを重ねた上に尖塔が立ち、直線と円弧を組み合わせたデザインをもつアール デコ様式の代表的ビルである。

- a. エンパイア ステート ビル b. カーネギー ホール
c. クライスラー ビル d. シーグラム ビル

問 32. 毎年 4 月上旬にハワイ州最大の島 [] で開催されるメリー モナーク フェスティバルは、カラカウア王を讃える祭りで、フラダンスのコンテストも行われ、日本からもファンが参加する。

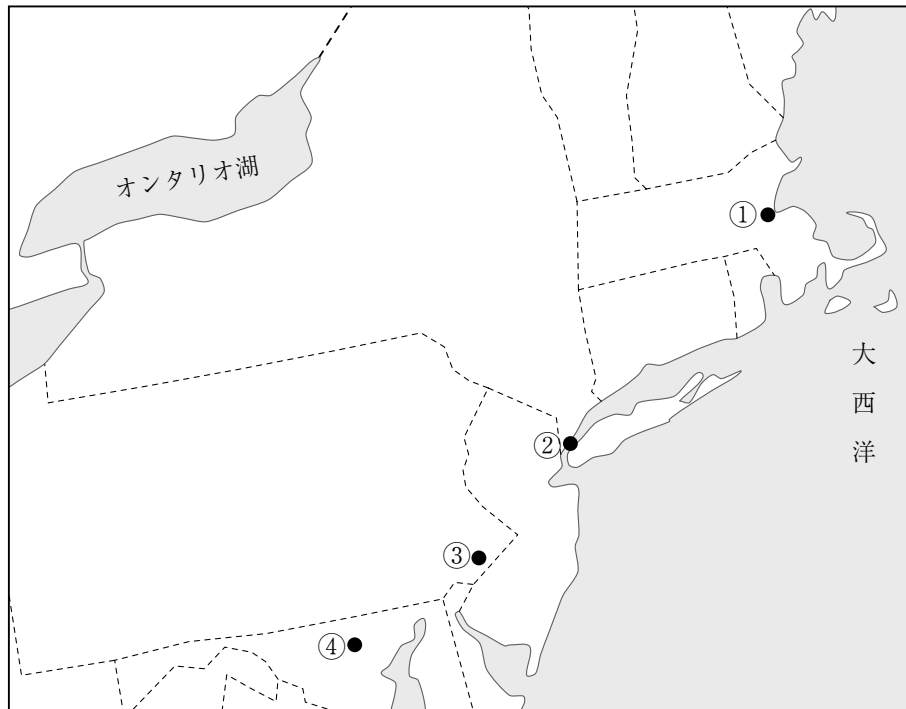
- a. オアフ島 b. カウアイ島 c. ハワイ島 d. マウイ島

問 33. カナダのノースウェスト準州、グレート スレーブ湖近くの [] は、アンカレジより北の北緯 62 度に位置し、冬だけでなく夏から秋にかけてもオーロラが観賞できる場所として日本人観光客が多数訪れる。

- a. イェローナイフ b. ウィスラー c. エドモントン d. カルガリー

問 34. 次の選択肢 a. ~ d. のうち、その組み合わせがすべて正しいものはどれか。

	白地図の位置	都市名	所属する州	その州に存在する建造物
a.	①	ボストン	マサチューセッツ州	スミソニアン自然史博物館
b.	②	ニューヨーク	ニューヨーク州	シアーズタワー
c.	③	フィラデルフィア	ペンシルベニア州	インディペンデンス ホール
d.	④	ワシントン D.C.	ヴァージニア州	国会議事堂



問 35. ユタとアリゾナ州境に位置し、数々の西部劇映画やCMの撮影に使われてきた は、アメリカ先住民のナバホ族によって管理されており、砂漠にそびえたつ赤色砂岩の塔の風景が有名である。

- a. グランドキャニオン b. デスバレー c. プライスキャニオン d. モニュメントバレー

問 36. アンデス山中にあり近年アメリカ人によって発見されたマチュピチュには、インカ帝国の都市の構造や建築様式がそのまま遺っており、同帝国の首都として栄えた から日帰りで訪れることができる。

- a. キト b. クスコ c. ラパス d. リマ

問 37. 渤海湾に臨む美しい港町で、坂道の多い街並みを残す は、遼東半島の南端に位置する中国東北地区では最大の貿易港で、初夏にはアカシア祭りが催される。

- a. 瀋陽 b. 大連 c. 青島 d. 天津

問 38. 1999 年にポルトガルから中国に返還された には、航海の安全を守る女神を祀り地名の由来ともなった媽閣廟、セントポール天主堂跡、モンテの砦などの歴史的建造物が遺されている。

- a. アモイ（廈門） b. スワトウ（汕頭） c. ホンコン（香港） d. マカオ（澳門）

問 39. かつて「東洋のパリ」と称されたサイゴンは現在の で、フランス風の都市計画に従って造られた美しい街並みがサイゴン川デルタに広がる大都市である。

- a. ダナン b. ハノイ c. フエ d. ホーチミン

問 40. チベット高原に源を発する 川は、ミャンマー、タイ、ラオスなどの国境を流れ、カンボジアを経てベトナムに入り、大デルタを形成して南シナ海に注ぐアジアを代表する国際河川である。

- a. イラワディ b. ガンジス（ガンガー） c. チャオプラヤ d. メコン

問 41. ボスポラス海峡に臨みアジアとヨーロッパの接点に位置する は、ギリシアの植民都市として建設され、その後東ローマ帝国ついでオスマン帝国の首都を経て現在に至り、キリスト教美術およびイスラム建築の傑作に富む都市である。

- a. アンカラ b. イスタンブール c. イズミル d. トロイ

問 42. ニュージーランドの 市内を流れるエイボン川では舟遊びが楽しめ、都市の名前をイギリスの大学名に由来したこの町のランドマークは、ビクトリア風ゴシック建築の大聖堂である。

- a. ウェリントン b. オークランド c. クイーンズタウン d. クライストチャーチ

問 43. 次の国立保護区、国立公園、自然保護区とその国及び首都の組み合わせで誤っているものはどれか。

- a. マサイ マラ国立保護区 — ケニア — ナイロビ
b. キリマンジャロ国立公園 — タンザニア — ダルエスサラーム
c. クルーガー国立公園 — 南アフリカ — プレトリア
d. ンゴロンゴロ自然保護区 — エチオピア — アディスアベバ

問 44. メラネシアの交通の要衝にあるため「南太平洋の十字路」と呼ばれる 共和国は、イギリス連邦の一員で、ビチレブ島、マナ島をはじめエメラルドグリーンの海と美しいビーチを持つ島々が点在している。

- a. ソシエテ諸島 b. パラオ諸島 c. フィジー諸島 d. マリアナ諸島

第6問 次の英文を読み、問 45.～問 48. の各設問について該当するものを、それぞれの選択肢から一つ選びなさい。(配点 5点×4)

Trevi Fountain (Fontana di Trevi)

Located in the heart of Rome's centro storico (historic centre), the Trevi Fountain derives its name from its position at the intersection of three roads (tre vie). According to legend, anyone who ① the water is guaranteed to return to the Eternal City.

There has been a source of water at ② this site for over a thousand years, although it was not until 1453 that Pope Nicholas V commissioned Leon Battista Alberti to create the actual fountain and even then ③ the project was ④ abandoned after the death of Pope Urban VIII in 1644. In 1732, Pope Clement XII employed Nicola Salvi to continue the work, and the result is a Baroque masterpiece that dominates the square. Although the water is no longer safe to drink, the fountain is still a popular place to enjoy an icecream from one of the gelaterie in the square.

問 45. 本文中の①に当てはまる最も適切な語句を選択肢から選びなさい。

- a. picks up a coin from
- b. throws a coin into
- c. finds a coin in
- d. rinses a coin with

問 46. 本文中の下線部②、③が指すそれぞれの内容として最も適切な組み合わせを選択肢から選びなさい。

	②	③
a.	the Trevi Fountain	to create the actual fountain
b.	the Eternal City	to dominate the square
c.	the gelaterie	to continue the work
d.	centro storico	to return to the Eternal City

問 47. 本文中の下線部④の単語の意味とまったく異なる意味をもつ単語を選択肢から選びなさい。

- a. resigned
- b. discontinued
- c. withdrawn
- d. restarted

問 48. 次の記述のうち、英文の内容に合致しているものを選択肢から選びなさい。

- a. トレヴィの泉がある場所には 1000 年以上も前から噴水が設置されていた。
- b. 噴水の建設を発案したのは法王クレメンス 12 世で 1732 年のことであった。
- c. トレヴィの泉という呼び名は、その場所にあった 3 つの道路の名前のひとつに由来している。
- d. トレヴィの泉の広場にはバロック様式の噴水の傑作がある。

第7問 次の英文は英字新聞の記事です。これを読み問 49. ～問 52. の各設問について該当するものをそれぞれの選択肢から一つ選びなさい。(配点 5点×4)

Lost-baggage problem only getting worse

An estimated 30 million bags that were checked in at airport last year failed to arrive on time with their owners, according to a tracking company. The vast majority of mishandled baggage was ① eventually reunited with owners, but more than 200,000 bags were either stolen or permanently lost, according to a report by SITA, a company based in Geneva and owned by the air transport industry.

The misdirected bags constituted only ② percent of the three billion bags processed last year by airports, but “the problem of mishandled baggage is worsening on both sides of the Atlantic,” the report said.

Greater airport ③, tight connection times, increased transfers among airlines and stricter security contributed to ④ late or missing bags, SITA said.

On average, misplaced bags were returned a little over 31 hours after they were reported ⑤.

問 49. 本文中の下線部①の意味に最も近い表現を選択肢から選びなさい。

- a. finally returned to owners
- b. mostly found by owners
- c. rechecked with owners from time to time
- d. reassembled by owners in the end

問 50. 本文中の空欄②に当てはまる最適な数値を選択肢から選びなさい。

- a. 0.1
- b. 1
- c. 6
- d. 0.6

問 51. 本文中の空欄 ③ ④ ⑤ にあてはまる最適な語句の組み合わせを選択肢から選びなさい。

	③	④	⑤
a.	confusion	less	misplaced
b.	congestion	more	missing
c.	disorder	no	misdirected
d.	busyness	fewer	mishandled

問 52. 次の記述のうち、英文の内容に合致しているものを選択肢から選びなさい。

- a. 昨年航空会社に委託された手荷物のうち、20万個以上が盗難などの理由で持ち主に届かなかった。
- b. 委託された手荷物の取扱いに関する事故調査によれば、職員の過剰労働が荷物紛失の一因である。
- c. SITA はロストバゲージの原因は3つあるという。
- d. 委託された手荷物の取扱い事故は特にヨーロッパで多くなっている。