

### ③ 国内旅行実務

第1問 以下の問1.～問20.の各設問について該当するものを、それぞれの選択肢から一つ選びなさい。  
(地名の表記については、原則として「コンサイス日本地名事典第4版」による。)

(配点 2点×20)

問1. 根室半島の先端にある  は、歯舞諸島を一望できる場所であり、周辺には白鳥の飛来地として有名な風蓮湖がある。

- a. 襟裳岬                      b. 神威岬                      c. 納沙布岬                      d. 宗谷岬

問2. 北海道のほぼ中央、旭川市にある  は日本で一番北にある動物園で、動物の姿かたちを見せるだけでなく、その動物がどのような動きをするのか「行動」を効果的に見せる工夫をしており話題を呼んでいる。

- a. 旭山動物園                      b. 東山動物園                      c. 円山動物園                      d. 八木山動物園

問3. 宮古市の北方に位置し、陸中海岸国立公園を代表する景勝地の  は、「海のアλπス」の異名どおり、高さ200メートル近くの切り立った断崖が8キロメートルにわたって続いている。

- a. 北山崎                      b. 浄土ヶ浜                      c. 龍飛崎                      d. 仏ヶ浦

問4. 片瀬海岸から歩行者専用と自動車専用の2本の橋で結ばれた  には弁財天が祀られ、水族館、ヨットハーバーなどが整備され観光行楽地となっている。

- a. 江ノ島                      b. 城ヶ島                      c. 八景島                      d. 初島

問5. 伊豆最古の温泉と言われる  は、伊豆半島のほぼ中央にあり狩野川支流の桂川溪谷にある温泉で、弘法大師が湧出させたという「独鈷の湯」が有名である。

- a. 熱川温泉                      b. 稲取温泉                      c. 修善寺温泉                      d. 土肥温泉

問6. 天竜川水系の一部として扱われる  は冬の氷結した湖面に亀裂が現れる御神渡り(おみわたり)現象が見られ、湖畔には50メートルもの高さまで吹き上げる間欠泉がある。

- a. 白樺湖                      b. 諏訪湖                      c. 中禅寺湖                      d. 野尻湖

- 問 7. 京都の代表的な観光地の一つである  は、徳川家康が将軍上洛の際の宿所として造営し、桃山時代武家風書院造りの代表的な建物であり、各部屋の襖絵は狩野派の手によるものである。
- a. 京都御所                      b. 三千院                      c. 二条城                      d. 東本願寺
- 問 8. 倉敷美観地区にあり、エル・グレコの「受胎告知」、モネの「睡蓮」などを収蔵する  は、昭和 5 年に開館したギリシャ神殿風造りの日本初の西洋美術中心の私立美術館である。
- a. 大原美術館                      b. 足立美術館                      c. 平山郁夫美術館                      d. 石橋美術館
- 問 9. 四国山地の石鎚山付近に源を發し、紀伊水道に注ぐ  は、別名「四国三郎」とも呼ばれ、上流に大歩危・小歩危の景勝地がある。
- a. 四万十川                      b. 面河川                      c. 吉野川                      d. 那賀川
- 問 10. 筑後川が流れ込む  は、海苔の養殖や干潟にはねるムツゴロウがよく知られ、河口付近には、川下りで知られている柳川がある。
- a. 有明海                      b. 大村湾                      c. 錦江湾                      d. 博多湾
- 問 11. 奄美群島最南端の島、 の大金久海岸の沖合いには、干潮時だけに姿を現す真っ白な百合ヶ浜がある。
- a. 種子島                      b. 屋久島                      c. 与論島                      d. 久米島
- 問 12. 沖縄本島最南端に位置する  には、1972 年に指定された沖縄戦跡国定公園があり、「ひめゆりの塔」や「健児の塔」など、多くの慰霊塔が建っている。
- a. 糸満市                      b. 沖縄市                      c. 宜野湾市                      d. 名護市
- 問 13. 次はある都道府県の特徴を述べたものであるが、ひとつだけその都道府県の特徴と合致していないものがある。それはどれか。
- a. 日本三大霊場のひとつ、恐山がある。  
b. 宮沢賢治の生地である。  
c. 十和田湖から流れ出る奥入瀬川の溪流が素晴らしい。  
d. ねぶた祭りは勇壮な夏祭りである。

問 14. 次はある都道府県の特徴を述べたものであるが、ひとつだけその都道府県の特徴と合致していないものがある。それはどれか。

- a. 雲仙岳付近には豊かな温泉が湧く。
- b. テーマパークのハウステンボスがある。
- c. 唐津焼や有田焼など磁器の産地である。
- d. 平成 18 年 4 月 1 日から 10 月 29 日まで「さるく博」が開催されている。

問 15. 次の観光地で世界遺産に登録されていないものはどれか。

- a. 石見銀山
- b. 原爆ドーム
- c. 姫路城
- d. 知床

問 16. 次の温泉地の最寄鉄道駅のうち、JR 線に所属する駅はどれか。

- a. 飯坂温泉駅
- b. 宇奈月温泉駅
- c. 有馬温泉駅
- d. 湯田温泉駅

問 17. 次の温泉地の組み合わせで、3 つのうちすべてが同一都道府県にないものはどれか。

- a. 芦ノ牧 — 東山 — 土湯
- b. 万座 — 四万 — 伊香保
- c. 山代 — 山中 — 芦原
- d. 内牧 — 黒川 — 菊池

問 18. 次の温泉地の読み方が正しく、その所在地と祭りが行われる地が同一都道府県内にある組み合わせはどれか。

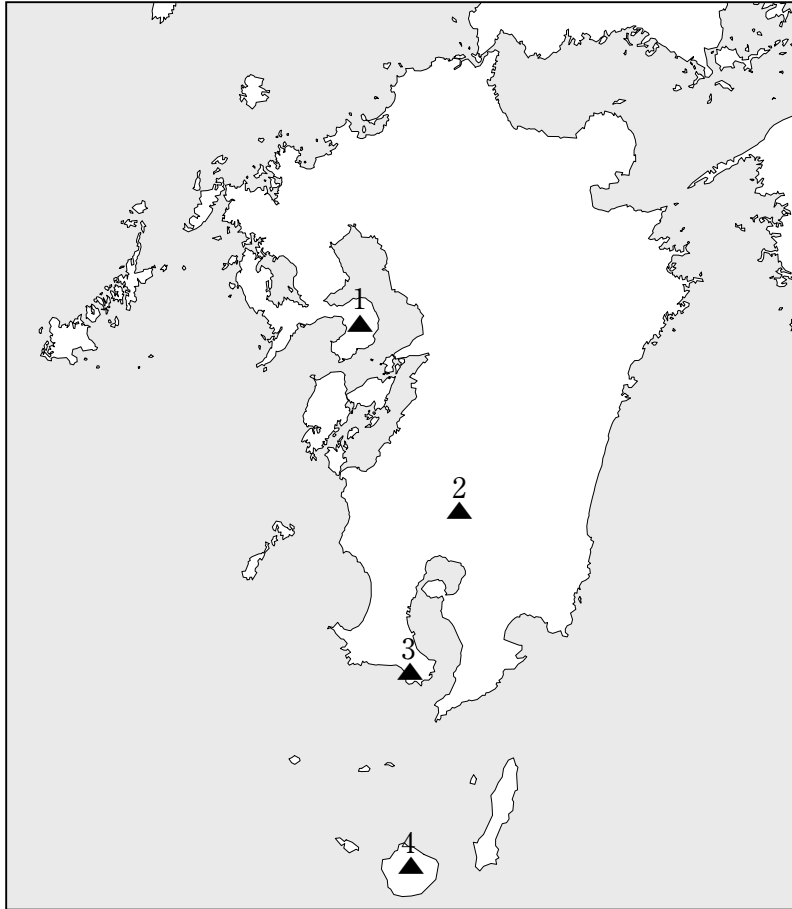
- a. 秋保温泉（あきうおんせん） — 仙台七夕まつり
- b. 発嘯温泉（はっほおんせん） — 上高地ウエストーン祭
- c. 道後温泉（どうごおんせん） — よさこい祭り
- d. 小浜温泉（こばまおんせん） — 唐津くんち

問 19. 次の空港名と空港コードの組み合わせのうち、誤っているものはどれか。

- a. 中部国際空港 — N G O
- b. 那覇空港 — O K I
- c. 神戸空港 — U K B
- d. 北九州空港 — K K J

問 20. 次の九州の白地図における番号と、下表に示す山岳の名前の組み合わせがすべて正しいものはどれか。

	1.	2.	3.	4.
a.	雲仙岳	霧島山	開聞岳	宮之浦岳
b.	霧島山	雲仙岳	開聞岳	宮之浦岳
c.	雲仙岳	霧島山	宮之浦岳	開聞岳
d.	霧島山	宮之浦岳	雲仙岳	開聞岳



第2問 フェリー運送に関する問21. の設問について該当するものを、選択肢から一つ選びなさい。  
 (以下は平成18年8月1日現在有効な条件による。) (配点 5点×1)

- 問21. 両親と9歳の小学生、4歳の幼稚園児の計4大家族が、父親が運転する自動車1台の航送を含めてフェリーの2等船室を利用する場合、標準運送約款〔フェリー〕に基づく運賃の算出方法のうち、正しいものはどれか。
- a. 2人分の大人2等旅客運賃 + 1人分の小児2等旅客運賃 + 自動車航送運賃
  - b. 2人分の大人2等旅客運賃 + 2人分の小児2等旅客運賃 + 自動車航送運賃
  - c. 1人分の大人2等旅客運賃 + 1人分の小児2等旅客運賃 + 自動車航送運賃
  - d. 1人分の大人2等旅客運賃 + 2人分の小児2等旅客運賃 + 自動車航送運賃

第3問 日本航空航空券に関する以下の問22. ~問23. の各設問について該当するものを、それぞれの選択肢から選びなさい。(以下は平成18年10月1日現在有効な条件による。) (配点 5点×2)

問22. 次の航空券に関する記述のうち、正しいものはどれか。

本券を折り曲げないでください。 裏面をお読みください。(See Reverse Side.)		500101234567891011	<b>ご搭乗券 Boarding Pass</b> 本券は着地までご携帯ください。 To be kept up to your destination.	
<b>日本航空航空券 特便割引1 その他運賃料込込</b> JAL PASSENGER TICKET FT-FARE OTHR FARE/CHRG INCLD		照会番号 Ref.No. ☆ 1000 - 0001		
ジャタ イチロウ様 (30M)		ご搭乗手続は自動チェックイン機もご利用いただけます。		
北九州 KITAKYUSYU	⇒名古屋/小牧 NAGOYA KOMAKI	税込 ¥16,400* (CASH) Tax incl. (PFC- 100)	FT 3IGMBM	予約番号 Rsv.No. 0196
JAL 4362便 Y 10月 1日 15時30分発 OK				
★★★★★★★★★★★★★★				
★★★★★★★★★★★★★★				
C RTG-KKJ (JL FT/16400) NKM TTL16400 FT-*				
2006年08月01日 JATAトラベル AA		発行日 Date of Issue 発行所 Place of Issue 有効期限 Validity		
13140 12345678		ご搭乗手続は15分前までに、ご搭乗口へは10分前までにお越しください。 日本航空ジャパン		

※券面上の★は設問上伏せてある。

- a. この航空券を8月30日に取消した場合、取消手数料は不要である。
- b. この航空券は、予約日を含めて3日以内に購入(決済)しなければならない。ただし搭乗日の2日前以降に予約した場合は搭乗便の出発時刻の20分前までに購入(決済)しなければならない。
- c. この航空券は、搭乗当日出発空港において予約便より前の同一区間の便に空席がある場合に限って当該便へ変更ができる。
- d. この航空券には、北九州空港旅客施設使用料100円が含まれている。

問 23. 次の航空券に関する記述のうち、正しいものはどれか。

本券を折り返さないでください。  
裏面をお読みください。(See Reverse Side.)

50010098765432110

**日本航空航空券 特便割引28 その他運賃料金込**  
JAL PASSENGER TICKET SX-FARE OTHR FARE/CHRG INCLD

照会番号 Ref.No.  
☆ 1111 - 0002

ご搭乗券 Boarding Pass  
本券は着地までご携帯ください。  
To be kept up to your destination.

ジャタ ハナコ様 (25F)

ご搭乗手続は自動チェックイン機もご利用いただけます。

札幌 / 千歳 ⇨ 東京 / 羽田  
SAPPORO CHITOSE TOKYO HANEDA

税込 ¥13,400\* (CASH)  
Tax Includ. (PFC- 100)

SX E5LFG7

予約番号 Rsv.No. 0222

JAL 1008便 Y 10月 3日 10時05分発 OK

★★★  
★★★

C RTG-SPK (JL SX/13400) HND TTL13400 SX-\*

2006年08月07日 JATAトラベル AA

発行日 Date of Issue 13140 12345678 搭乗手続は15分前までに、ご搭乗口へは10分前までにお越しください。 日本航空ジャパン

JAL  
本輸送は運送会社の運送約款によります。  
Subject to general conditions of carriage.

※券面上の★は設問上伏せてある。

- a. この航空券に適用される運賃種別は、土曜日と日曜日には適用されない。
- b. 購入（決済）期限は、搭乗日の30日前までの予約の場合は予約日を含めて3日以内であるが、搭乗日の29日前から28日前までの予約の場合は、搭乗日の28日前までである。
- c. この航空券に適用される運賃は、搭乗日の28日前までの予約であれば座席数に制限なく利用できる。
- d. 取消手数料は、取消日にかかわらず13,400円×50% = 6,700円である。

第4問 旅客鉄道会社（JR）に関する以下の問24. ～問32. の各設問について該当するものを、それぞれの選択肢から選びなさい。（以下は平成18年5月1日現在有効な条件による。）

（配点 5点×9）

問 24. 乗車券類の取扱いに関する次の記述のうち、正しいものはどれか。

新幹線「のぞみ8号」

往路乗車日 7月31日 博多 \_\_\_\_\_ 京都  
7:49 10:45

特急「はやぶさ号」

復路乗車日 8月2日 京都 \_\_\_\_\_ 博多  
0:37 10:10

※特急「はやぶさ号」は東京始発（18:03発）の列車である

	往路発売開始日	復路発売開始日
a.	6月30日	7月1日
b.	6月30日	7月2日
c.	7月1日	7月1日
d.	7月1日	7月2日

問 25. 乗車券の取扱いに関する次の記述のうち、正しいものはどれか。

- a. 大人1人が5歳と3歳の幼児を随伴する場合、乗車券は大人1人分と小児1人分が必要である。
- b. 営業キロが100 kmの区間の普通乗車券は、券面に表示された区間内の駅に何回でも途中下車することができる。
- c. 往復割引と学生割引は重複して適用できない。
- d. 片道の営業キロが450 kmの往復乗車券の有効期間は8日間である。

問 26. 寝台特急のB寝台（客車二段式）を次の条件で利用する場合、必要な乗車券類の組合せで、正しいものはどれか。

- a. 大人1人と幼児1人が1つの寝台を利用する場合

乗車券	大人1人分
特急券	大人1人分 小児1人分
寝台券	1人分

- b. 大人1人と小児1人が1つの寝台を利用する場合

乗車券	大人1人分 小児1人分
特急券	大人1人分 小児1人分
寝台券	1人分

- c. 小児2人が1つの寝台を利用する場合

乗車券	小児2人分
特急券	小児1人分
寝台券	1人分

- d. 大人1人と小児1人と幼児1人が2つの寝台を利用する場合

乗車券	大人1人分 小児1人分
特急券	大人2人分
寝台券	2人分

問 27. 次の J R 時刻表（交通新聞社発行）〔抜粋〕に関し、大人 1 人が特急「はくたか 3 号」で富山から越後湯沢まで乗車する場合、富山～越後湯沢間の普通運賃の算出方法で、正しいものはどれか。

J R 時刻表（交通新聞社）2006 年 5 月号より抜粋

富山		糸魚川		直江津		六日町		越後湯沢				
線名	営業キロ	営業キロ	運賃	列車番号	525M	527M	102M	829M	529M	105M	423M	1003M
				列前の掲載頁	279	279	279	279	279	279	279	279
				始発	608	608	608	608	608	608	608	608
北陸本線	0.0			富山	625	631	644	657	719	725	747	747
	6.6			山崎	631	638	651	704	719	731	751	751
	11.5			東富	635	642	655	709	715	736	756	756
	17.0			水橋	640	647	660	715	721	742	759	759
	20.5			清東	644	651	664	719	725	745	749	749
	25.5			滑川	648	655	700	723	734	749	804	804
	31.8			魚津	648	655	700	723	734	750	805	805
	35.8			黒部	654	707	710	724	735	756	756	756
	40.0			生井	657	711	715	734	740	756	756	756
	43.9			西入	701	715	719	739	739	756	756	756
	49.1			入善	705	720	725	743	743	756	816	816
	53.8			泊	710	725	729	755	751	756	756	756
	58.5			越中	729	734	734	759	759	756	756	756
	67.1			市崎	734	741	741	804	810	810	810	810
	72.4			親不知	746	751	751	815	815	815	815	815
79.0			青森	746	751	751	822	809	815	836	836	
83.3			糸魚川	753	753	753	810	810	810	837	837	
86.8			屋敷	757	757	757	810	810	810	837	837	
91.9			能生	801	801	801	810	810	810	837	837	
99.4			簡生	806	806	806	810	810	810	837	837	
103.6			名立	812	812	812	810	810	810	837	837	
107.8			有間	816	816	816	810	810	810	837	837	
111.2			谷	821	821	821	810	810	810	837	837	
117.8			直江津	824	830	751	833	833	833	859	859	
120.5			黒井	830	753	753	815	835	835	900	900	
124.9	0.0	円	湯沢	830	753	753	823	835	835	900	900	
北越急行	5.9	170		くびき	828	828	828	828	828	828	828	828
	7.8	190		大池	851	851	851	851	851	851	851	851
	12.7	250		うらがわ	855	855	855	855	855	855	855	
	14.7	250		虫川	837	837	837	837	837	837	837	
	20.9	340		ほくほく	842	842	842	842	842	842	842	
	30.3	580		まつだい	856	856	856	856	856	856	856	
	43.6	780		十日町	907	907	907	907	907	928	928	
	45.1	820		しんげ	910	910	910	910	910	910	910	
	47.3	820		しんげ	915	915	915	915	915	915	915	
	55.9	920		魚沼	919	919	919	919	919	919	919	
59.5	950		六日町	923	923	923	923	923	923	923		
土越線	0.0			六日町	952	952	952	952	952	952	952	
	3.9			湯沢	952	952	952	952	952	952	952	
	6.2			上越	952	952	952	952	952	952	952	
	11.2			越後湯沢	953	953	953	953	953	953	953	

※北越急行は J R 東日本及び J R 西日本と通過連絡運輸の取扱いを行っている。  
 ※本州内 J R 3 社の幹線用普通運賃表


営業キロ	片道運賃
16 ~ 20 km	320 円
121 ~ 140 km	2,210 円
141 ~ 160 km	2,520 円
181 ~ 200 km	3,260 円
201 ~ 220 km	3,570 円

- a. 124.9 km + 17.6 km = 142.5 km  
 2,520 円 + 950 円 = 3,470 円 3,470 円
- b. 2,210 円 + 950 円 + 320 円 = 3,480 円 3,480 円
- c. 124.9 km + 59.5 km + 17.6 km = 202.0 km 3,570 円
- d. 124.9 km + 59.5 km = 184.4 km  
 3,260 円 + 320 円 = 3,580 円 3,580 円



問 28. 次の行程を大人 1 人が通常期に、新幹線の改札口を出ないで当日中に乗り継ぐ場合、特急料金の算出方法で、正しいものはどれか。

[行 程]



※通常期指定席特急料金

京 都～新山口	ひかり号・こだま号	5,240 円
京 都～新大阪	のぞみ号	2,390 円
京 都～新大阪	ひかり号・こだま号	2,190 円
新大阪～新山口	ひかり号・こだま号	4,920 円

※のぞみ号の自由席利用時の特定特急料金

京 都～新大阪	840 円
---------	-------

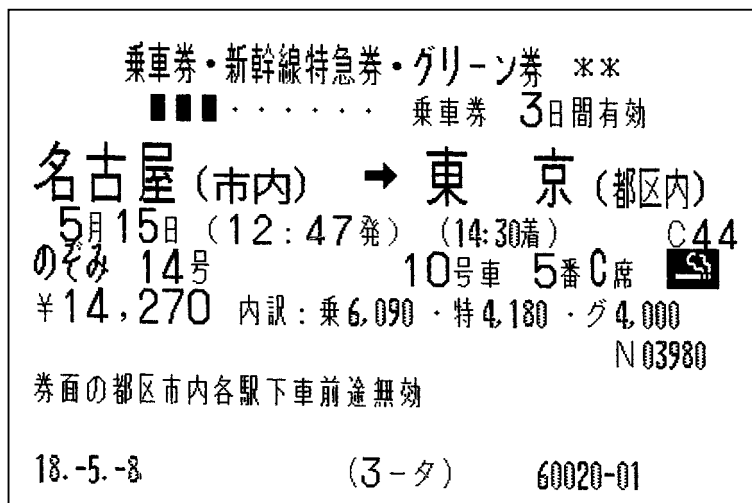
- a.  $5,240 \text{ 円} + (2,390 \text{ 円} - 2,190 \text{ 円}) - 510 \text{ 円} = 4,930 \text{ 円}$  4,930 円
- b. 5,240 円 5,240 円
- c.  $5,240 \text{ 円} + (2,390 \text{ 円} - 2,190 \text{ 円}) = 5,440 \text{ 円}$  5,440 円
- d.  $840 \text{ 円} + 4,920 \text{ 円} = 5,760 \text{ 円}$  5,760 円

問 29. 次の行程を当日中に乗り継ぐ場合、下線を付した列車の特急料金に乗継割引が適用されるものはどれか。

[行 程]

- 特急「リレーつばめ号」
新幹線「つばめ号」
特急「きりしま号」
- a. 博 多 ————— 新八代 ————— 鹿児島中央 ————— 霧島神宮
- 新幹線「ひかり号」
特急「成田エクスプレス号」
- b. 静 岡 ————— 東 京 ————— 成田空港
- 新幹線「のぞみ号」
特急「トワイライトエクスプレス号」
- c. 名古屋 ————— 京 都 ————— 札 幌
- 特急「スーパー北斗号」
特急「スーパー白鳥号」
- d. 札 幌 ————— 函 館 ————— 八 戸

問 30. 次の J R 券を 5 月 14 日に払い戻した場合の返金額のうち、正しいものはどれか。



- a.  $4,180 \text{ 円} \times 0.3 = 1,254 \text{ 円} \rightarrow$ は数整理 $\rightarrow 1,250 \text{ 円}$   
 $4,000 \text{ 円} \times 0.3 = 1,200 \text{ 円}$   
 $14,270 \text{ 円} - 210 \text{ 円} - 1,250 \text{ 円} - 1,200 \text{ 円} = 11,610 \text{ 円}$  11,610 円
- b.  $4,180 \text{ 円} \times 0.3 = 1,254 \text{ 円} \rightarrow$ は数整理 $\rightarrow 1,250 \text{ 円}$   
 $4,000 \text{ 円} \times 0.3 = 1,200 \text{ 円}$   
 $14,270 \text{ 円} - 1,250 \text{ 円} - 1,200 \text{ 円} = 11,820 \text{ 円}$  11,820 円
- c.  $4,000 \text{ 円} \times 0.3 = 1,200 \text{ 円}$   
 $14,270 \text{ 円} - 210 \text{ 円} - 1,200 \text{ 円} = 12,860 \text{ 円}$  12,860 円
- d.  $4,000 \text{ 円} \times 0.3 = 1,200 \text{ 円}$   
 $14,270 \text{ 円} - 1,200 \text{ 円} = 13,070 \text{ 円}$  13,070 円

問 31. ジパング倶楽部に関する次の記述のうち、正しいものはどれか。

- a. 男性は満 55 歳以上、女性は満 50 歳以上であれば一般会員（個人）になることができる。
- b. 運賃に割引を適用する条件は、J R 線を片道・往復・連続で営業キロ 201 km 以上利用する場合である。
- c. 7 月 20 日から 8 月 31 日の間は、利用制限期間のため運賃のみ割引が適用される。
- d. 新幹線「のぞみ号」を利用する場合は、普通車自由席に限り特急料金が割引となる。

問 32. JR時刻表（交通新聞社発行）〔抜粋〕に関する次の記述のうち、正しいものはどれか。

- a. 寝台特急「カシオペア号」は、A寝台1人用個室（シングルデラックス）2階建て車両とA寝台2人用個室（ツインデラックス）2階建て車両からなる、オール2階建ての列車である。
- b. 寝台特急「北斗星2号」の寝台車は、すべて個室である。
- c. 特急「おはようとしぎ4号」の普通車には、指定席がない。
- d. 特急「スペーシアきぬがわ2号」は、個室4室を含めた全車両がグリーン車で、普通車の指定席はない。

JR時刻表（交通新聞社）2006年5月号より抜粋

		上 野 — 大 宮 — 小 山 — 宇 都 宮 — 黒 磯																				
列車番号	564M	8010	1160Y	1150Y	1530M	566M	2	568M	1170Y	2532M	570M	326D	5044M	1062M	570M	4160Y	1532M	1180Y	1534M	572M	328D	574M
列車名	カシオペア	カシオペア	カシオペア	カシオペア	カシオペア	カシオペア	カシオペア	カシオペア	カシオペア	カシオペア	カシオペア	カシオペア	カシオペア	カシオペア	カシオペア	カシオペア	カシオペア	カシオペア	カシオペア	カシオペア	カシオペア	カシオペア
発着	851 857 703 707 712 717 721 726 732 737 745	753 755	804 811 817 821 829 835 841 846 850 853 856 866 900 903 907	813 820	820 826 830 835 841 846 849 852 856 905 910 912 916	821 827 831 835 842 847 850 853 856 905 910 912 916	826 832 836 839 845	811 817 821 829 835	824 830 836 840 845 849	829 835 840 845 850	835 840 845 850	835 840 845 850	835 840 845 850	835 840 845 850	837 843 849 855 861 867 873 879 885 891 897 903 909	837 843 849 855 861 867 873 879 885 891 897 903 909	859 865 871 877 883 889 895 901 907 913 919 925 931 937	859 865 871 877 883 889 895 901 907 913 919 925 931 937	910 916 922 928 934 940 946 952 958 964 970 976 982 988 994	910 916 922 928 934 940 946 952 958 964 970 976 982 988 994	925 932 937 941 946 951 952	925 932 937 941 946 951 952
到着番線	5	14																				
終着			廻子 1048	廻子 1047					大船 1109							廻子 1119	廻子 1146					
次の掲載頁			156	159					156							159	156					